



# ROE Test

Test Omnibus per addetti a ruoli operativi-esecutivi

## AMBITO DI UTILIZZO

Primo screening di personale destinato a ruoli operativi-esecutivi in svariati settori: operai, autisti, magazzinieri, manutentori.

## LIVELLO

Licenza media e diploma di scuola superiore.

## CHE COSA MISURA

- EM** EFFICIENZA MENTALE: velocità e precisione nell'esecuzione di compiti semplici e/o ripetitivi, mantenendo un elevato livello di attenzione.
- S** ATTITUDINE VISUO-SPAZIALE: capacità di orientamento nello spazio e "colpo d'occhio.
- G** RAGIONAMENTO GENERALE: fattore di intelligenza generale, indipendente dalla scolarizzazione o dall'educazione.
- RM** RAGIONAMENTO MECCANICO: capacità di percepire e capire la relazione tra forze fisiche ed elementi meccanici in situazioni concrete

## COME SI PRESENTA

1 fascicolo recante:

- ◇ le istruzioni per l'esecuzione della prova con alcuni esempi risolti;
- ◇ 60 quesiti a scelta multipla, con 3-5 alternative di risposta. Nella forma Omnibus, i quesiti si presentano secondo una successione sistematica nel rispetto del "peso" attribuito ai 4 fattori e della difficoltà crescente del test.

## OUTPUT

Il test restituisce quale output un punteggio standardizzato, che indica come la prestazione del candidato si colloca su una scala a 7 livelli.

MOLTO BASSA

BASSA

MEDIO-BASSA

MEDIA

MEDIO-ALTA

ALTA

MOLTO ALTA




## COSA FORNIAMO

- ◇ Fascicoli test e Moduli risposte (anche per lettura ottica).
- ◇ Foglio di calcolo per la correzione o servizio di correzione.
- ◇ Manuale di utilizzo completo di procedura di somministrazione, dati normativi\*, guida all'interpretazione dei punteggi.
- ◇ Addestramento all'uso del test.

\* L'analisi degli item, la determinazione tempo di applicazione e la verifica della normalità sono state compiute su 60 soggetti in situazione neutra, l'attendibilità verificata tramite split-half. La prima taratura e la determinazione delle norme (media e deviazione standard), è avvenuta su 820 soggetti in situazione competitiva. Disponiamo di tarature differenziate per 2 livelli di scolarità: licenza media o inferiori e diploma.

## ESEMPI DI ITEM

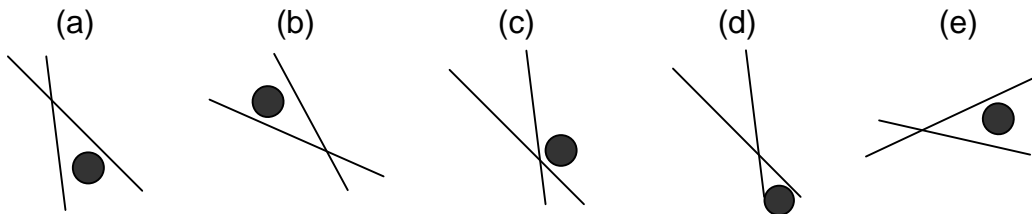
**EM.** Le lettere a sinistra rappresentano l'iniziale del nome dei simboli a sinistra, nell'ordine in cui essi si presentano. In quale o in quali delle righe da (a) a (c) c'è un errore?

- (a)  ..... BQCQC  
 (b)  ..... FRQCZ  
 (c)  ..... CSFRA

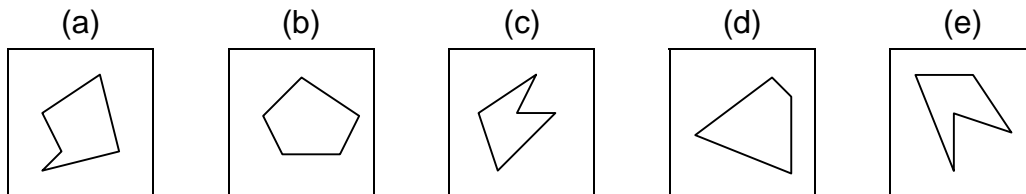
### LEGENDA

									
<b>Asterisco</b>	<b>Cerchio</b>	<b>Quadrato</b>	<b>Rombo</b>	<b>Stella</b>	<b>Triangolo</b>	<b>Cuore</b>	<b>Bandiera</b>	<b>Freccia</b>	<b>Fiore</b>

**S.** Due (o tre) fra le seguenti figure sono uguali, anche se appaiono ruotate. Quali?




**G.** Quale fra le figure da (a) ad (e) si distingue dalle altre quattro?




# ROE Test

Test Omnibus per addetti a ruoli operativi-esecutivi

**RM.** In quale caso la giostra sta girando più velocemente?



(A)



(B)

**RM.** Dove deve essere posizionato il peso da 1 kg, affinché la bilancia - appesa in  $\otimes$  - stia in equilibrio?

